



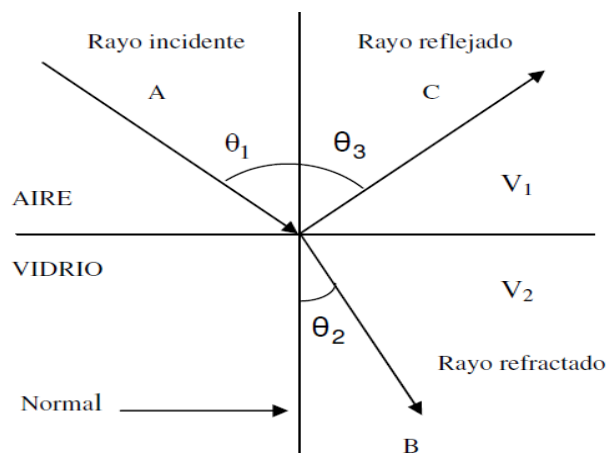
LABORATORIO VIRTUAL: INDICE DE REFRACCION

I. OBJETIVO GENERAL

Compruebe experimentalmente la Ley de Snell utilizando el simulador (PHET) y determinar el índice de refracción de diferentes medios ópticamente transparente.

II. INTRODUCCION TEORICA

Cuando un rayo de luz que se propaga en un medio transparente encuentra una frontera mas allá de la cual hay otro medio transparente, como se muestra en la figura 1, una parte del rayo se refleja y otra penetra en el segundo medio. El rayo que entra en el segundo medio se dobla en la frontera y se dice que se refracta. El rayo incidente, el rayo reflejado, el rayo refractado y la normal al punto de incidencia están todos en el mismo plano.



El ángulo de refracción, θ_2 en la figura 1, depende de las propiedades de los dos medios y del ángulo de incidencia, según la relación $\text{sen}\theta_2 / \text{sen}\theta_1 = v_2 / v_1 = \text{Constante}$. Donde v_1 es la rapidez de la luz en el medio 1 y v_2 es la rapidez de la luz en el medio 2. A Willebrord Snell se le atribuye usualmente el descubrimiento experimental de esta relación, la que por consiguiente, se conoce como la ley de Snell. La forma de expresar esta ecuación es: $n_1 \text{sen}\theta_1 = n_2 \text{sen}\theta_2$. Experimentalmente se demuestra que la trayectoria de un rayo de luz a través de una superficie refractora es reversible. Por ejemplo, el rayo de la figura 1 se propaga del punto A al punto B. Si el rayo se hubiese originado en B, seguiría la misma trayectoria para llegar al punto A, pero el rayo reflejado estaría en el vidrio.

IV. MATERIAL Y EQUIPO

Guía de laboratorio
Computadora
Internet
Simulador (programa PHET)

V. PROCEDIMIENTO EXPERIMENTAL

Parte A: Entrar al programa Phet

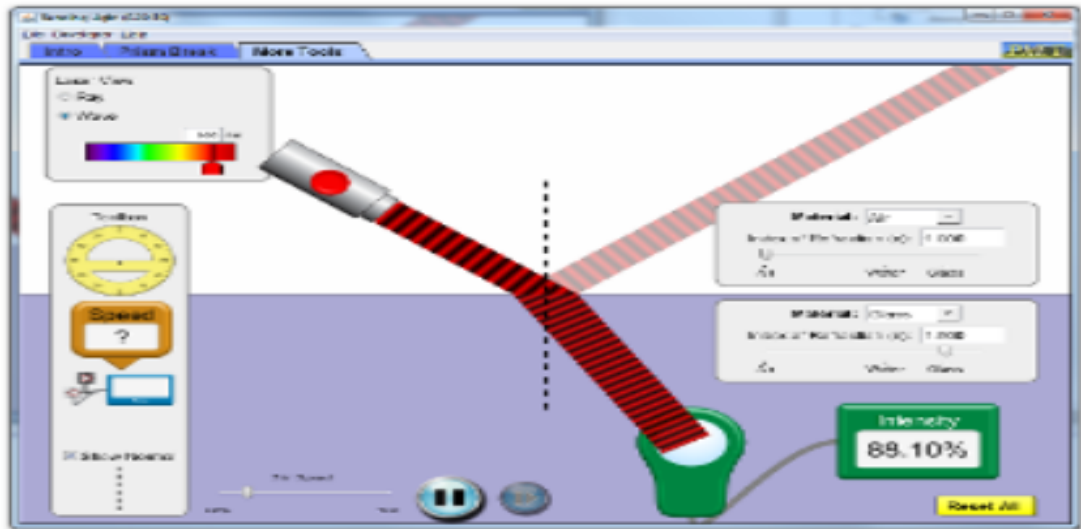
1. Abrir el explorador FireFox
2. Digitar phet en español y seleccionar buscar
3. Abrir el link [Simulaciones Phet traducidas al Español](#)

4. Seleccionar Física
5. Seleccionar luz y radiación
7. Seleccionar torciendo la luz (Ver figura)
8. Seleccionar iniciar a hora



Torciendo la luz

Torciendo la luz



Descargar

2.030 kB

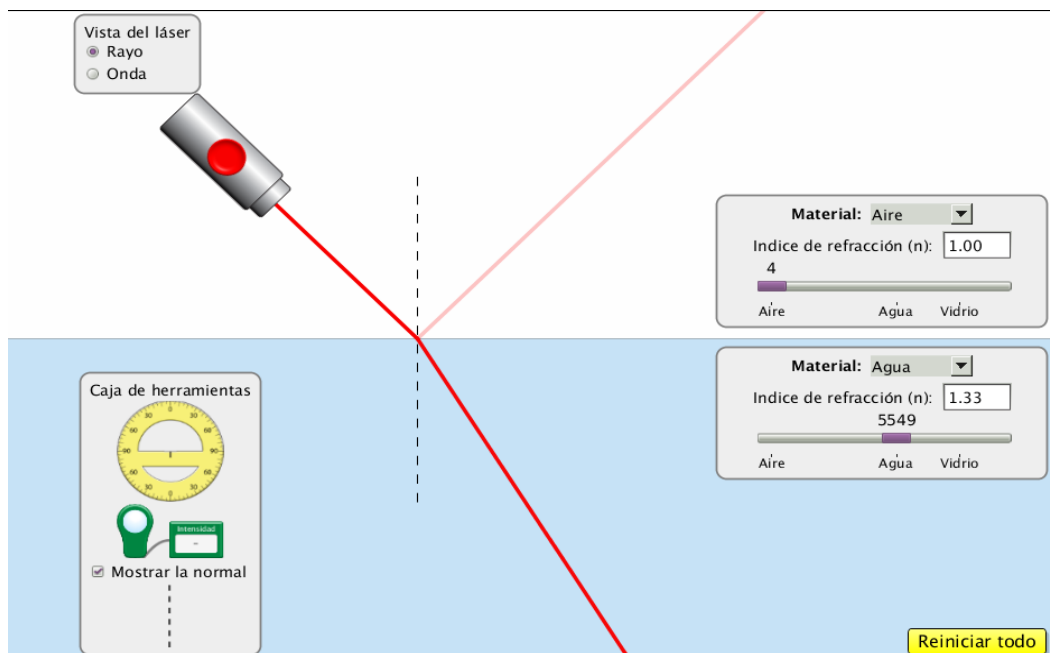
! Iniciar ahora !

Insertar

Versión: 1.03 ([registro de cambios](#))

Parte B: Calcular el índice de refracción para medios conocidos.

1. Seleccionar aire en el medio 1, agua en el medio 2 y encender la fuente de luz



2. Colocar el transportador y medir el ángulo incidente con respecto a la normal (ángulo incidente = θ_i)
3. Medir el ángulo refractado con respecto a la normal (ángulo refractado = θ_r)

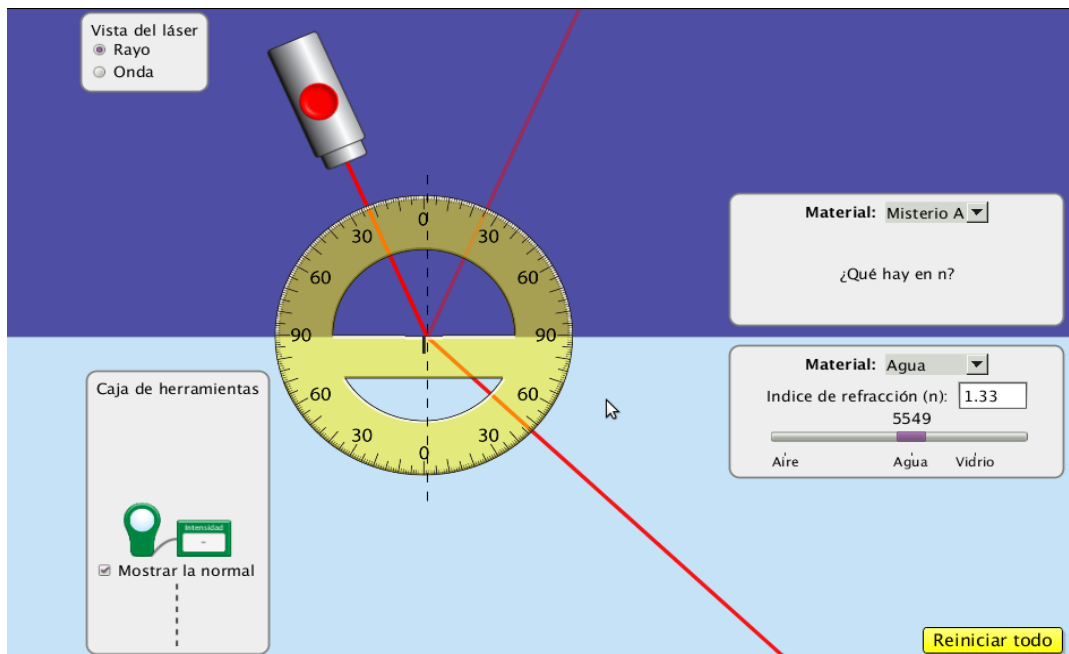
- Con los datos obtenidos en la tabla N° 1. Calcular el índice de refracción del segundo medio, sabiendo que el índice de refracción del aire es 1.
- Repetir el procedimiento anterior sustituyendo el agua por el vidrio y calcular el porcentaje de error.

Medio 1	n_1	θ_i	Medio 2	θ_r	n_2	% de Error
Aire	1.0		Agua			
Aire	1.0		Vidrio			

Tabla de datos N° 1

Parte C: Calcular el **índice de refracción de los misterios A y B del medio 1 y 2.**

- Seleccionar el misterio A en el medio 1
- Si el rayo se refleja girar la fuente de luz hasta observar el rayo refractado. Ver figura



- Colocar el transportador y medir el ángulo incidente con respecto a la normal (ángulo incidente = θ_i)
- Medir el ángulo refractado con respecto a la normal (ángulo refractado = θ_r)
- Calcular el índice de refracción del medio desconocido si n_2 es agua.
- Repetir los pasos anteriores para los demás medios y completar la tabla de datos N° 2

Medio 1	n_1	θ_i	Medio 2	θ_r	n_2
Misterio A			Agua		1.33
Misterio B			Vidrio		1.50
Aire	1.00		Misterio A		
Agua	1.33		Misterio B		

Tabla de datos N° 2